



Умная раскраска

5-7 лет

МАЛЕНЬКИЕ ГЕНИИ

1 2 3 4 5 6 7 8 9

# УЧИМ ЦИФРЫ



## ***Уважаемые родители и педагоги!***


Эта книга предназначена для занятий с детьми 5–6 лет. Задания помогут сформировать у ребенка старшего дошкольного возраста внимание и память, познакомят маленького ученика с цифрами.

При работе с книгой понадобится ваша помощь, поэтому обязательно прочитайте **пояснения к заданиям**:


- 1.** Вначале прочитайте ребенку стихотворение о цифре. Оно поможет малышу связать цифру с определенным образом. Это очень важно для дошкольника, ведь лучше всего дети запоминают то, что прочувствовали. Затем попросите маленького математика раскрасить цифру любым цветом.
- 2.** Задание с раскрашиванием колец пирамидки поможет дошкольнику стать более внимательным и разовьет его память: каждый раз раскрашивать колечки нужно теми же цветами, что и на предыдущей картинке. Пусть малыш сначала постарается вспомнить, какие цвета он уже использовал на прошлом занятии, а затем проверит себя, заглянув на предыдущую страницу.
- 3.** Следующее задание трудное, почти школьное. Ребенок должен сам писать цифры. Чтобы малышу было интересно, попросите его оценить результаты своей работы: для этого надо сосчитать, сколько цифр написано красиво, и сравнить с количеством неудавшихся. От занятия к занятию удачных цифр у юного математика будет все больше, и это вселит в него уверенность в собственные силы.
- 4.** В задании с карточками «домино» маленькому ученику нужно срисовывать с образца узор из нескольких точек. Эта кропотливая работа научит дошкольника ориентироваться в пространстве, аккуратности и навыку владения карандашом.
- 5.** Задание с раскрашиванием различных предметов поможет ребенку усвоить состав числа «десять». Это задание не является традиционным и поэтому требует от малыша вдумчивого отношения к его выполнению.
- 6.** Рисунок-путаница из цифр потребует от малыша концентрации внимания. Но, как правило, детям нравятся подобные задания.
- 7.** В конце каждого занятия не забывайте показывать юному ученику цифровой ряд, расположенный на краю страницы; указывая на каждую цифру, называйте ее.

***Успехов вам и вашему малышу!***

- Выучи стихотворение. Найди в числовом ряду справа цифры 0.

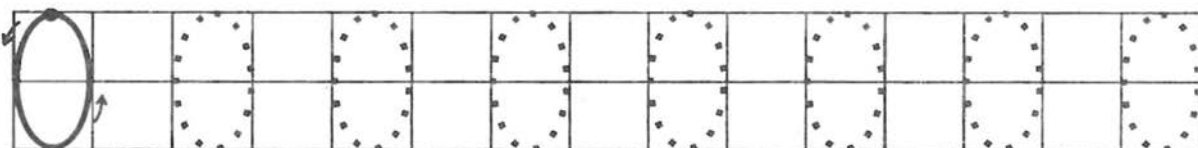


**НОЛЬ** как круг,  
Как буква «О»,  
Но при счёте –  
Ничего.

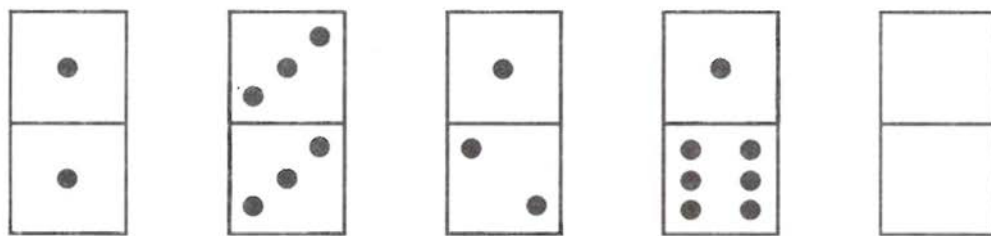


- Раскрась цифру.
- Сколько колец на пирамидке?



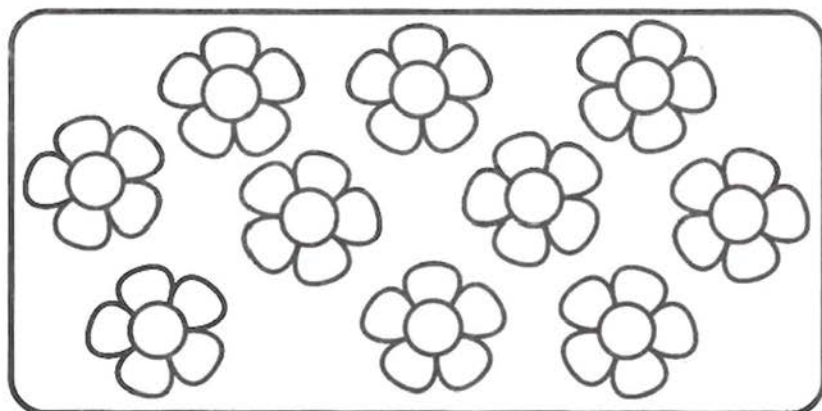
- Напиши цифру по точкам. Какие цифры получились красиво?



- Закрась карточку, на которой 0 точек.

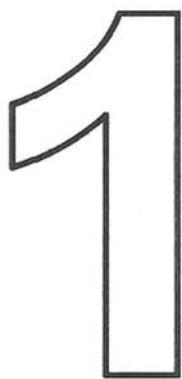


- Раскрась все цветочки жёлтым цветом.
- Найди и раскрась цифру 0.




0  
1  
2  
3  
4  
5  
6  
7  
8  
9  
8  
7  
6  
5  
4  
3  
2  
1  
0

- Выучи стихотворение. Найди в числовом ряду слева цифры 1.



Вот **ОДИН** –  
С длиннющим носом.  
Эту цифру  
В гости просим.



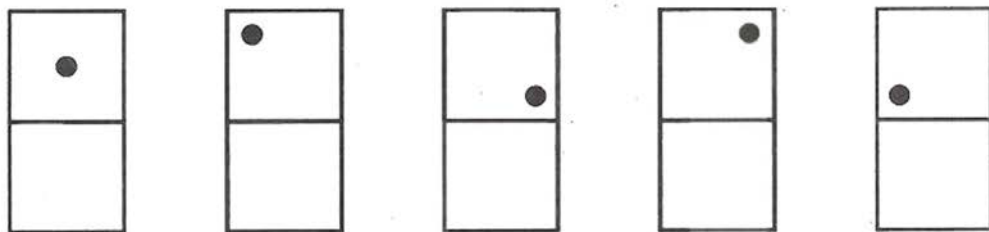
- Раскрась цифру.

- Раскрась одно кольцо на пирамидке.



- Напиши цифру по точкам. Какие цифры получились красиво?




- Нарисуй точки в нижних квадратах так же, как это сделано в верхних.




- Раскрась одно яблоко жёлтым цветом, а остальные — красным.
- Найди и раскрась цифру 1.



- Выучи стихотворение. Найди в числовом ряду справа цифры 2.

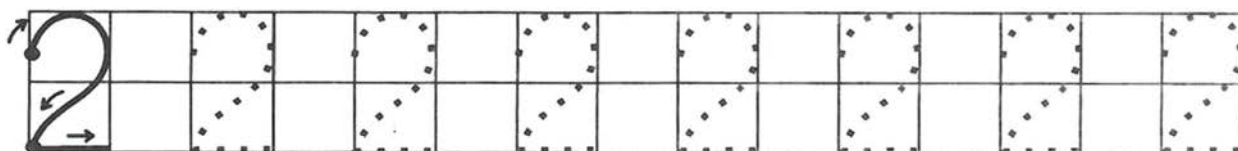


**Цифра ДВА**  
Плывёт как пава:  
Нос – налево,  
Хвост – направо.

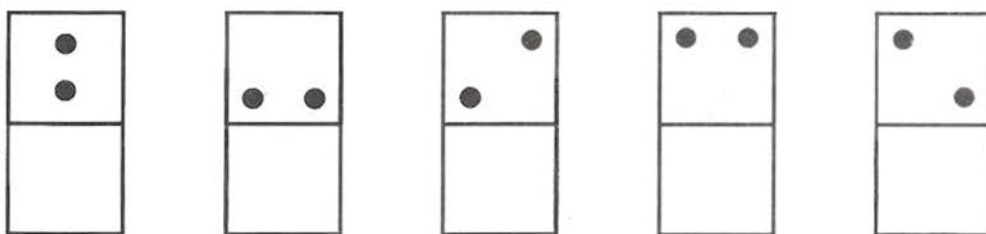


- Раскрась цифру.
- Раскрась два кольца на пирамидке.

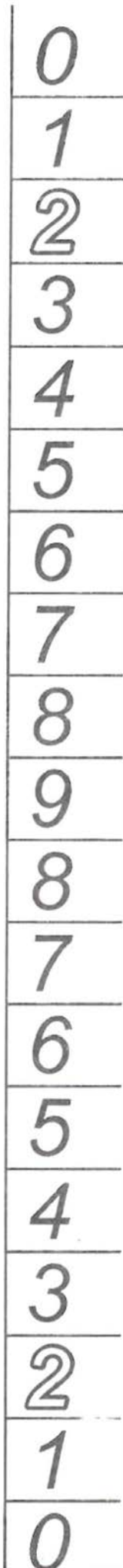

- Напиши цифру по точкам. Какие цифры получились красиво?



- Нарисуй точки в нижних квадратах так же, как это сделано в верхних.



- Раскрась две ягодки красным цветом, а остальные — зелёным.
- Найди и раскрась цифру 2.

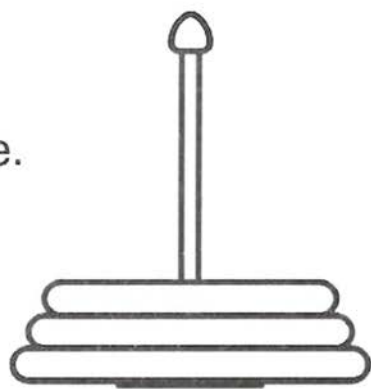


0  
1  
2  
3  
4  
5  
6  
7  
8  
9  
8  
7  
6  
5  
4  
3  
2  
1  
0

- Выучи стихотворение. Найди в числовом ряду слева цифры 3.



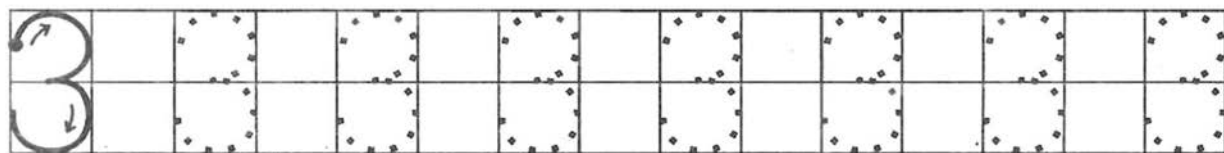
Цифра **ТРИ** –  
Как будто ушки  
У кого-то на макушке.



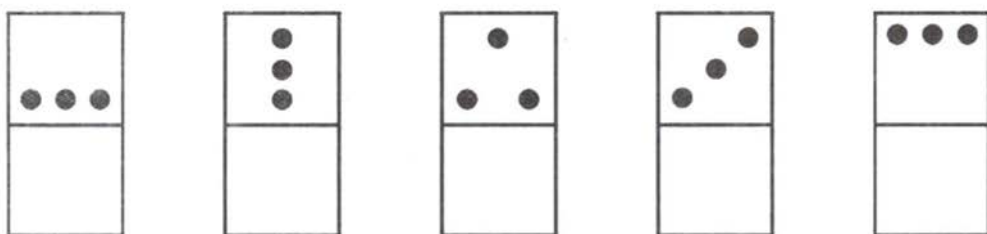
- Раскрась цифру.

- Раскрась три кольца на пирамидке.

- Напиши цифру по точкам. Какие цифры получились красиво?

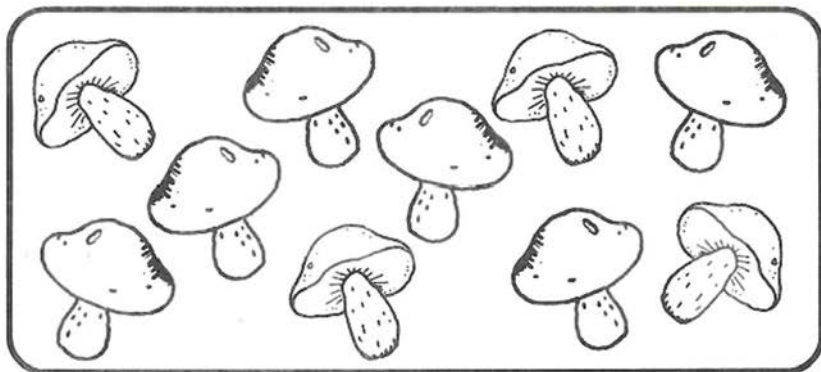


- Нарисуй точки в нижних квадратах так же, как это сделано в верхних.

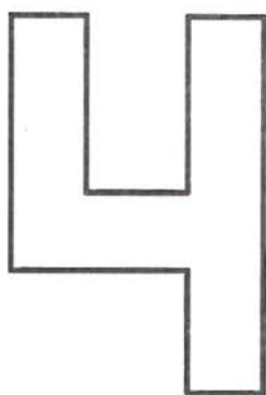


- Раскрась три грибочка жёлтым цветом, а остальные — красным.

- Найди и раскрась цифру 3.



- Выучи стихотворение. Найди в числовом ряду справа цифры 4.



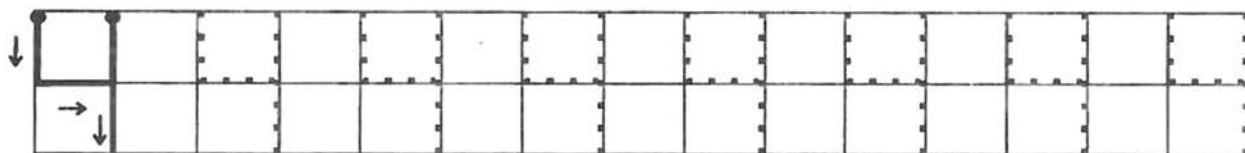
Всем известно в целом мире:  
За тремя спешит **ЧЕТЫРЕ**.  
Ручку ставит на бочок —  
Получается крючок.



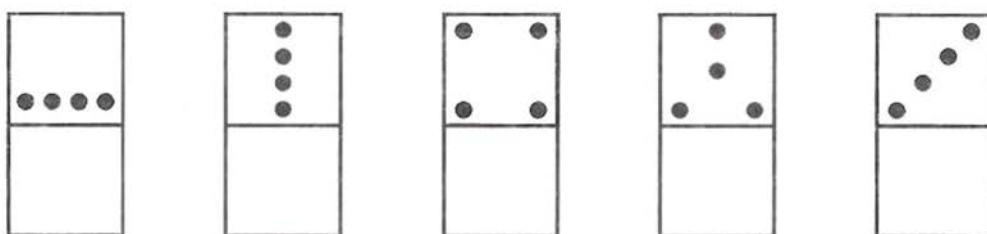
- Раскрась цифру.

- Раскрась четыре кольца на пирамидке.

- Напиши цифру по точкам. Какие цифры получились красиво?

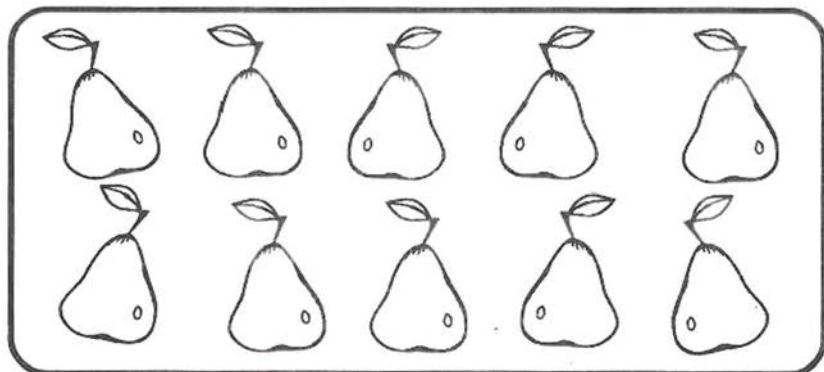


- Нарисуй точки в нижних квадратиках так же, как это сделано в верхних.



- Раскрась четыре груши зелёным цветом, а остальные — жёлтым.

- Найди и раскрась цифру 4.



0  
1  
2  
3  
4  
5  
6  
7  
8  
9  
8  
7  
6  
5  
4  
3  
2  
1  
0

- Выучи стихотворение. Найди в числовом ряду слева цифры 5.



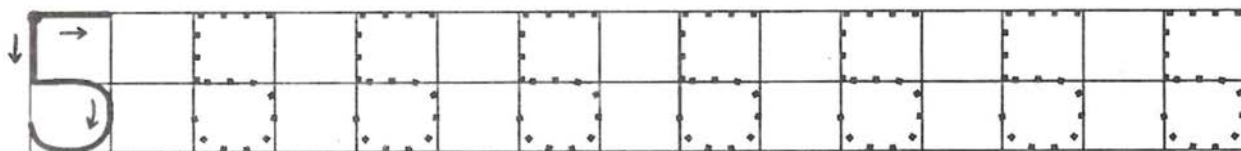
Чтобы **ПЯТЬ** нарисовать,  
Надо песню напевать:  
Палочка и горочка,  
А над ними — полочка.



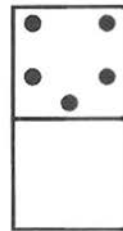
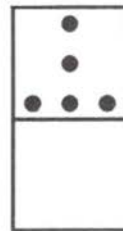
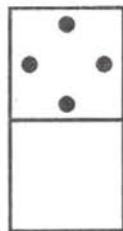
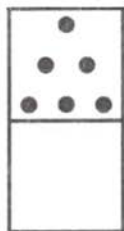
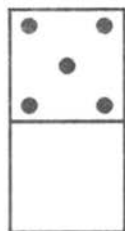
- Раскрась цифру.

- Раскрась пять колец на пирамидке.

- Напиши цифру по точкам. Какие цифры получились красиво?

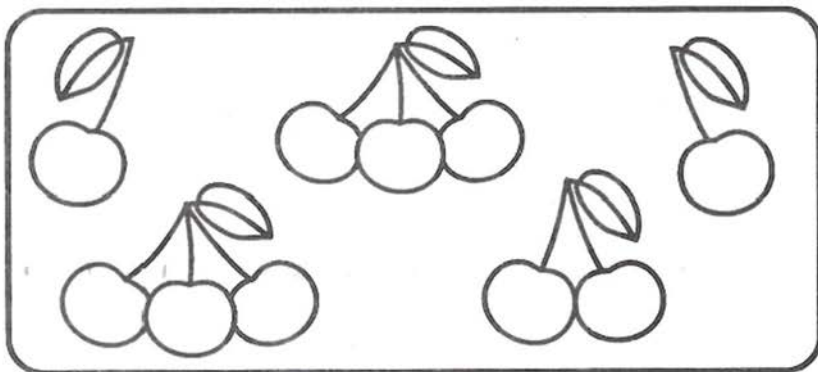


- Нарисуй точки в нижних квадратах так же, как это сделано в верхних.



- Раскрась пять ягодок красным цветом, а остальные — жёлтым.

- Найди и раскрась цифру 5.






- Выучи стихотворение. Найди в числовом ряду справа цифры 6.



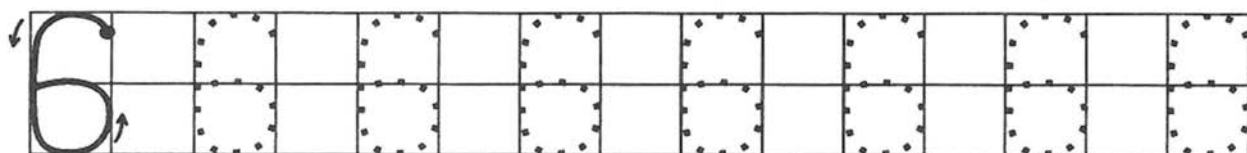
Цифра **ШЕСТЬ**  
Хотела есть —  
Брюшко отрастила,  
А поесть забыла.



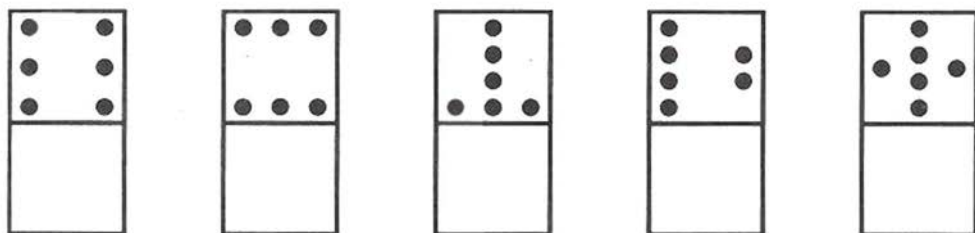
- Раскрась цифру.

- Раскрась шесть колец на пирамидке.

- Напиши цифру по точкам. Какие цифры получились красиво?

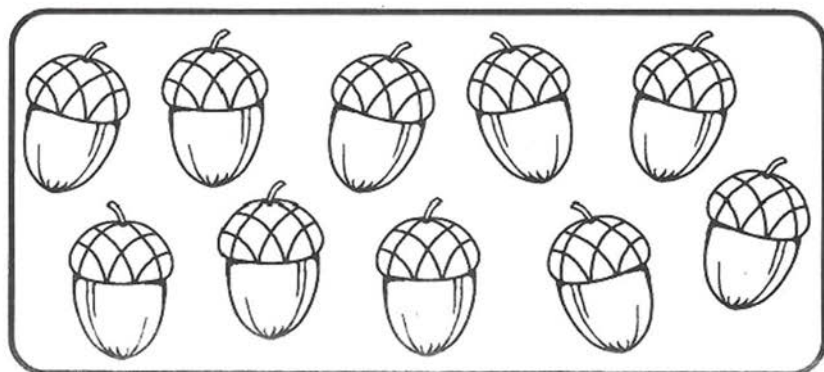


- Нарисуй точки в нижних квадратах так же, как это сделано в верхних.



- Раскрась шесть желудей зелёным цветом, а остальные — жёлтым.

- Найди и раскрась цифру 6.



0

1

2

3

4

5

6

7

8

9

8

7

6

5

4

3

2

1

0

0

1

2

3

4

5

6

7

8

9

8

7

6

5

4

3

2


1

0

- Выучи стихотворение. Найди в числовом ряду слева цифры 7.



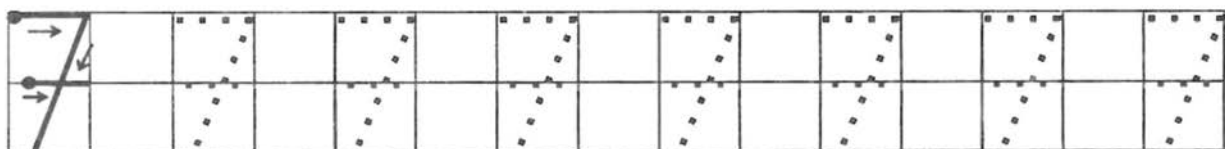
Цифра **СЕМЬ** —  
Подъёмный кран:  
«Снизу вверх  
Вам всё подам».




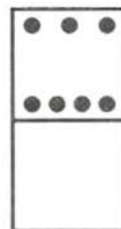
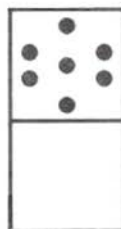
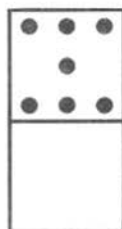
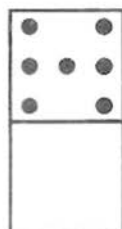
- Раскрась цифру.

- Раскрась семь колец на пирамидке.

- Напиши цифру по точкам. Какие цифры получились красиво?





- Нарисуй точки в нижних квадратах так же, как это сделано в верхних.




- Раскрась семь конфет синим цветом, а остальные — зелёным.


- Найди и раскрась цифру 7.



- Выучи стихотворение. Найди в числовом ряду справа цифры 8.



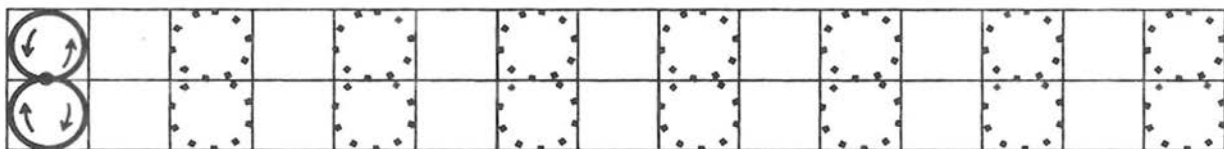
Поглядев на цифру  
**ВОСЕМЬ**,  
 Чаю сразу  
 Мы попросим:  
 Тут и бублик,  
 Тут и сушка  
 У восьмёрки  
 Вместо бруска.



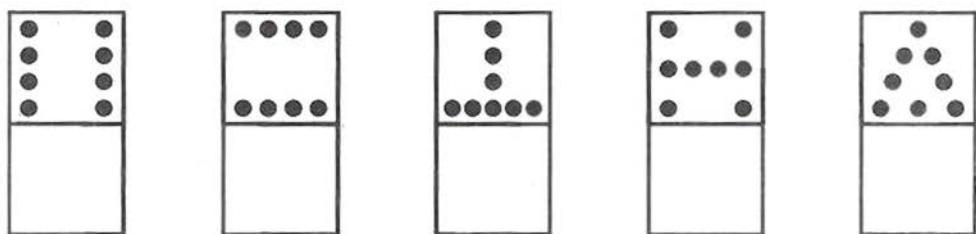
- Раскрась цифру.

- Раскрась восемь колец на пирамидке.


- Напиши цифру по точкам. Какие цифры получились красиво?




- Нарисуй точки в нижних квадратах так же, как это сделано в верхних.



- Раскрась восемь ягодок красным цветом, а остальные — жёлтым.



- Найди и раскрась цифру 8.



0

1

2

3

4

5

6

7

8

9

8

7

6

5

4

3

2

1

0

0

1

2

3

4

5

6

7

8

9

8

7

6

5

4

3

2

1

0

- Выучи стихотворение. Найди в числовом ряду слева цифру 9.



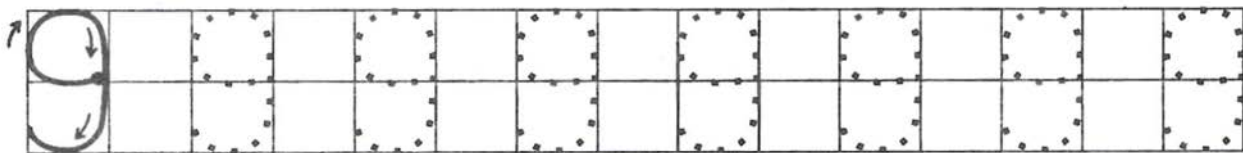
Цифра шесть  
Перевернулась  
И **ДЕВЯТКОЙ**  
Обернулась.



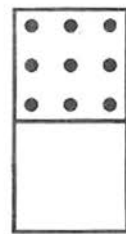

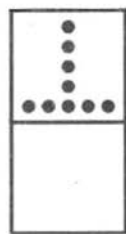
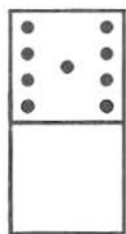
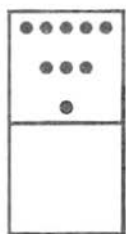
- Раскрась цифру.

- Раскрась девять колец на пирамидке.

- Напиши цифру по точкам. Какие цифры получились красиво?


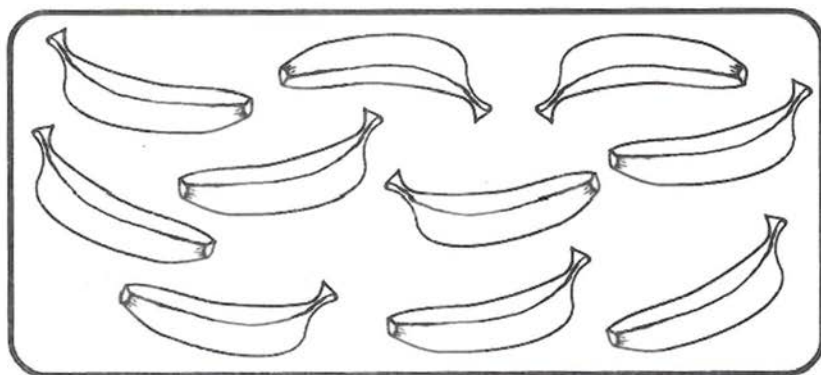


- Нарисуй точки в нижних квадратах так же, как это сделано в верхних.



- Раскрась девять бананов жёлтым цветом, а оставшийся — зелёным.

- Найди и раскрась цифру 9.



- Выучи стихотворение. Найди в числовом ряду справа цифры 1, 0.

# 10

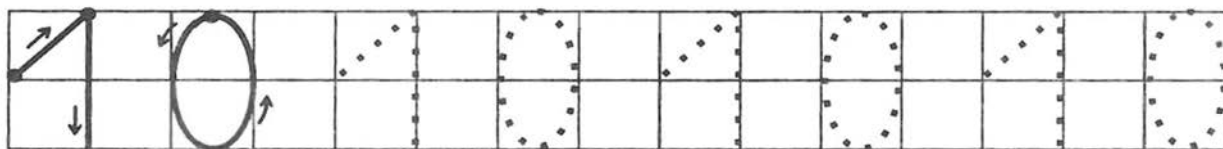
Вот один,  
А рядом ноль —  
Стал он важным,  
Как король.  
К единичке  
Прислонился —  
В цифру **ДЕСЯТЬ**  
Превратился.



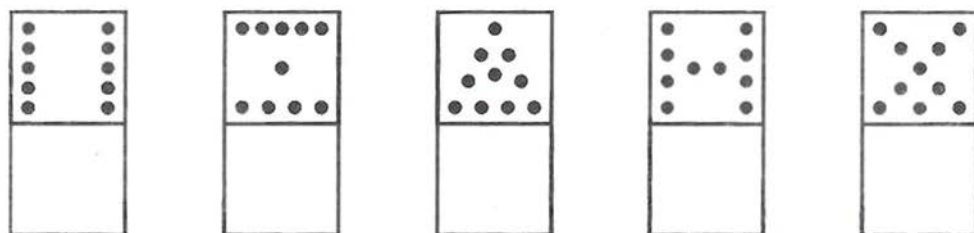
- Раскрась цифру.

- Раскрась десять колец на пирамидке.

- Напиши цифру по точкам. Какие цифры получились красиво?

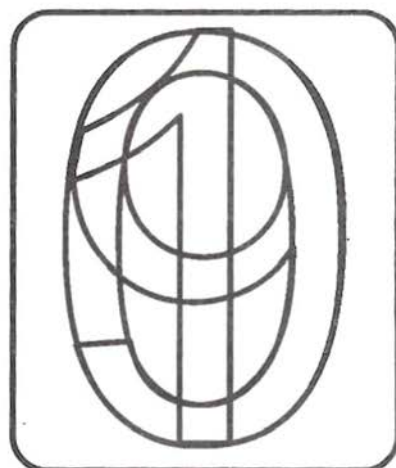



- Нарисуй точки в нижних квадратиках так же, как это сделано в верхних.

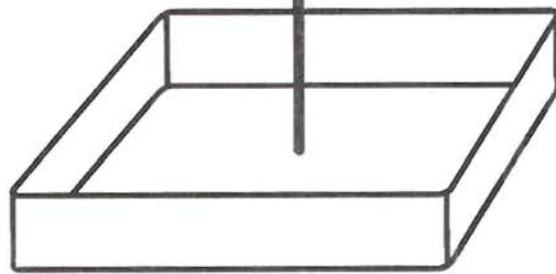
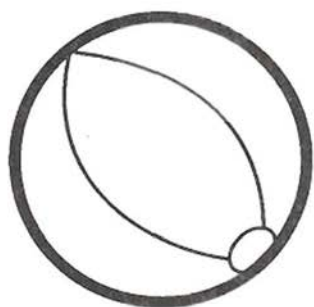
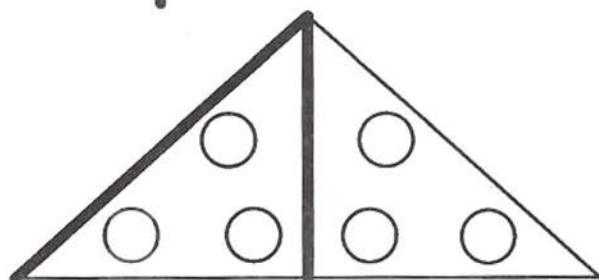



- Раскрась всех бабочек.


- Найди и раскрась цифры 1 и 0.



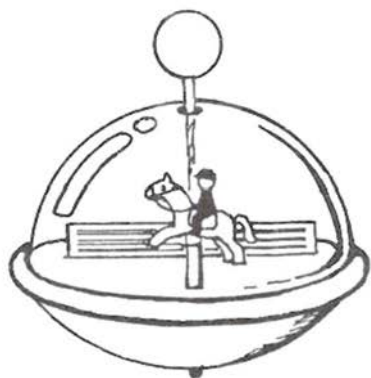
- Найди на картинке цифры от 0 до 4. Обведи их.  
Раскрась картинку.




- Найди на картинке цифры от 5 до 9. Обведи их.  
Раскрась картинку.



- Отгадай загадки. Найди картинки с правильными ответами и раскрась их.




Пляшет крошка,  
А всего одна ножка.

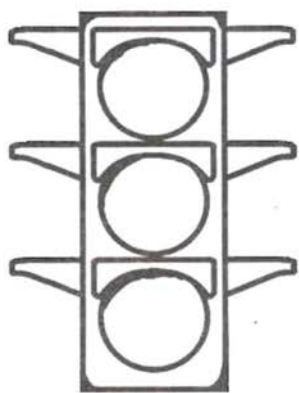


Два братца  
Не могут расстаться:  
Утром — в дороге,  
Ночью — на пороге.

Разных три откроет глаза,  
Но откроет их не сразу.  
Если глаз откроет красный —  
Стоп! Идти нельзя! Опасно!  
Жёлтый глаз — погоди,  
А зелёный — проходи!



Шевелились у цветка  
Все четыре лепестка,  
Я сорвать его хотел —  
Он вспорхнул и улетел.




Пять пальчиков, пять чуланчиков,  
Разошлись мальчики  
В тёмные чуланчики:  
Каждый мальчик —  
В свой чуланчик.

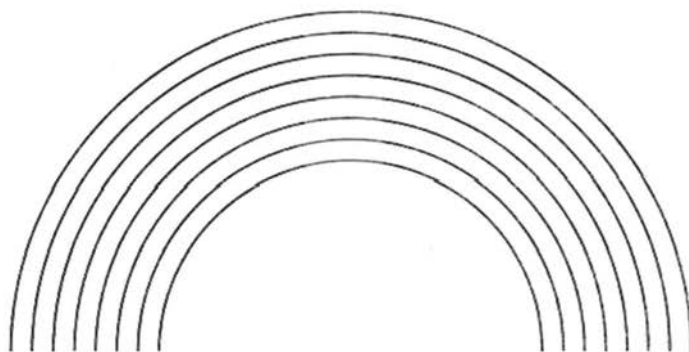




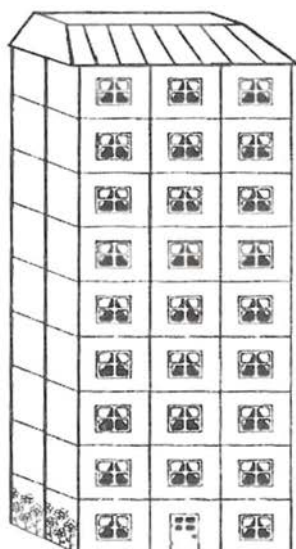
● Отгадай загадки. Найди картинки с правильными ответами и раскрась их.




Шесть ног,  
На голове рог.  
Шуршит под корой.  
Кто такой?



Раскинулся мост  
На семь сёл,  
На семь вёрст.

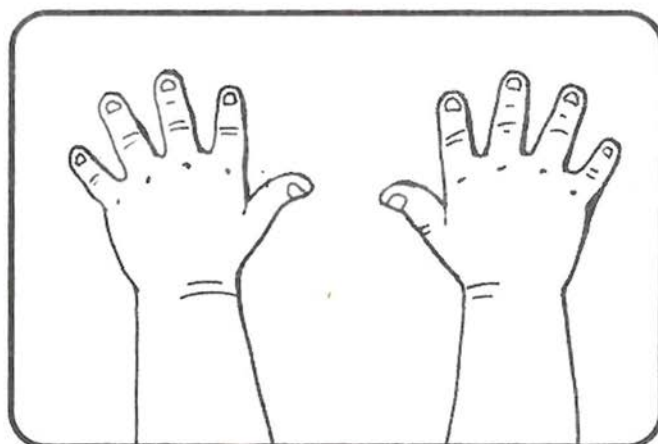


На улице он самый важный,  
Так как он многоэтажный.  
Сколько в доме этажей?  
Отвечайте поскорей.



Он имеет восемь ног  
И зовётся ...

У меня их пять да пять.  
Помоги-ка сосчитать.

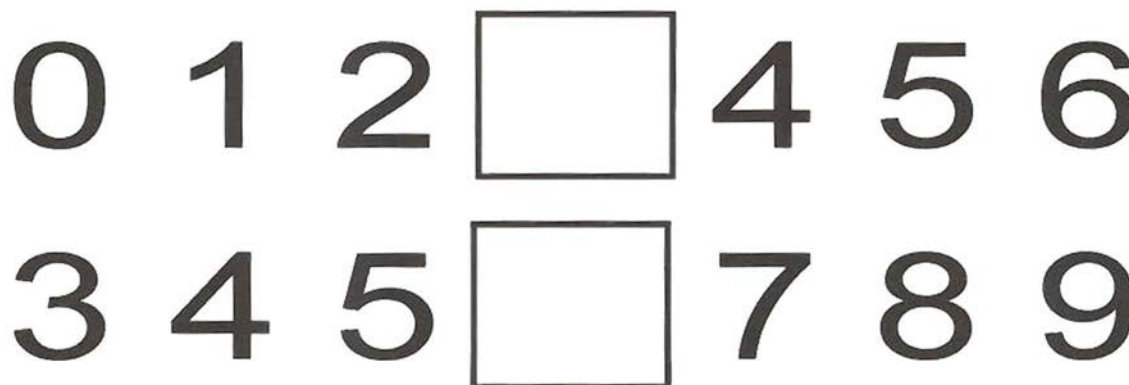


● Соедини цифры по порядку. Раскрась получившуюся картинку.


- Преврати эти палочки в цифры 1, 4 и 7.



- Впиши в цифровой ряд недостающие цифры.



Для дошкольного возраста

Новиковская Ольга Андреевна

УЧИМ ЦИФРЫ. 5–7 лет

Умная раскраска. Маленькие гении

Художники *О. Серебрякова, О. Наумова*

Ответственный редактор *М. Тумановская*

Художественное оформление *Т. Любиченко*

Верстка *С. Левин*

Технический редактор *Т. Лаврова*

Корректор *Н. Старостина*

Подписано в печать с готовых диалозитивов заказчика 28.03.07.

Формат 84×108<sup>1</sup>/<sub>16</sub>. Бумага офсетная. Печать офсетная.

Усл. печ. л. 1,68. Тираж 7000. Заказ 2499.

Санитарно-эпидемиологическое заключение

№ 77.99.02.953.Д.004829.06.06 от 07.06.2006 г.

Издано при участии ООО «Харвест».  
Лицензия №02330/0056935 от 30.04.04.

Республика Беларусь,  
220013, Минск, ул. Кульман, д. 1, корп. 3, эт. 4, к. 42.

Республиканское унитарное предприятие  
«Издательство «Белорусский Дом печати».

Республика Беларусь, 220013, Минск, пр. Независимости, 79.

ООО «Издательство «Астрель»  
129085, г. Москва, проезд Ольминского, 3а

ООО «Издательство «Сова»  
195112, г. Санкт-Петербург, а/я № 51 E-mail oosova@mail.wplus.net

Издание осуществлено при техническом содействии  
ООО «Издательство АСТ»

ISBN 978-5-271-16798-0  
ISBN 978-985-16-3555-5

© О. А. Новиковская, 2007  
© О. Серебрякова, 2007  
© О. Наумова, 2007  
© ООО «Издательство «Сова», 2007  
© ООО «Издательство «Астрель», 2007